


Република Србија
Министарство просвете
Друштво педагога техничке културе Србије

ОКРУЖНО И ГРАДСКО ТАКМИЧЕЊЕ УЧЕНИКА ОСНОВНИХ ШКОЛА
У ТЕХНИЧКОМ И ИНФОРМАТИЧКОМ ОБРАЗОВАЊУ
9. МАЈ 2009.




Округ _____ Име и презиме ученика _____

Општина _____ Име и презиме наставника _____

Школа _____ Освојено бодова на тесту _____

рбр	Питање	Бр. бодова
1.	За приказивање видљивих ивица, односно контура предмета користи се: а. пуна дебља линија б. пуна танка линија ц. испрекидана линија Заокружи слово испред тачног одговора.	3
2.	Однос истих димензија предмета на цртежу и у природи назива се: а. Формат б. Размера Заокружи слово испред тачног одговора.	2
3.	На слици је приказана: <div style="text-align: center;">  </div> а. размера за смањење б. повећана размера ц. природна величина Заокружи слово испред тачног одговора.	3
4.	Димензије формата А4 су: а) 210 X 317 мм б) 210 X 300 мм в) 210 X 297 мм Заокружи слово испред тачног одговора.	2
5.	Тастери на рачунару се деле у 5 група (упиши називе) 1. _____ 2. _____ 3. _____ 4. _____ 5. _____ На линије упиши одговоре	5

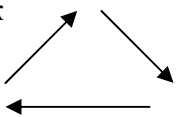
6.	<p>Наведи три врсте штампача: (упиши називе)</p> <p>1. _____</p> <p>2. _____</p> <p>3. _____</p> <p>На линије упиши одговоре</p>	3
7.	<p>Чему служе наредбе Cut, Copy и Paste? (упиши називе)</p> <p>Cut _____</p> <p>Copy _____</p> <p>Paste _____</p> <p>На линије упиши одговоре</p>	3
8.	<p>Фурнир се користи за производњу :</p> <p>а. шперплоче и панел-плоче</p> <p>б. иверице и лесонит-плоче</p> <p>Заокружи слово испред тачног одговора.</p>	2
9.	<p>Наведи полупроизоде од дрвета: (упиши називе)</p> <p>1. _____ 2. _____</p> <p>3. _____ 4. _____</p> <p>На линије упиши одговоре</p>	4
10.	<p>Бакелит је врста:</p> <p>а. картона</p> <p>б. пластичне масе</p> <p>в. полупроизвод од дрвета</p> <p>Заокружи слово испред тачног одговора.</p>	1
11.	<p>Како се назива знак за рецилажу? Одговори и нацртај како он изгледа.</p> <p style="text-align: right;">Цртеж:</p> <p>Одговор:</p> <p>_____</p> <p>На линију упиши одговор</p>	2
12.	<p>Необновљиви извори енергије су:</p> <p>а. угаљ, нафта, плин</p> <p>б. вода, ветар, плима и осека</p> <p>Заокружи слово испред тачног одговора.</p>	2
13.	<p>Саобраћајни знакови у друмском саобраћају се деле на:</p> <p>1. _____</p> <p>2. _____</p> <p>3. _____</p> <p>На линије упиши одговоре</p>	3
14.	<p>Упиши назив саобраћајног знака.</p> <div style="display: flex; align-items: center;">  <div> <p>_____</p> <p>На линију упиши одговор</p> </div> </div>	1
15.	<p>Упиши назив саобраћајног знака.</p> <div style="display: flex; align-items: center;">  <div> <p>_____</p> <p>На линију упиши одговор</p> </div> </div>	1

16.	<p>Упиши назив саобраћајног знака.</p> <div>  <div> <p>_____</p> <p>На линију упиши одговор</p> </div> </div>	1
17.	<p>Упиши назив саобраћајног знака.</p> <div>  <div> <p>_____</p> <p>На линију упиши одговор</p> </div> </div>	1
18.	<p>Упиши назив саобраћајног знака.</p> <div>  <div> <p>_____</p> <p>На линију упиши одговор</p> </div> </div>	1

Потпис чланова комисије:

Укупан број остварених бодова: _____

Кључ за тест ПЕТОГ РАЗРЕДА

1.	а. пуна дебља линија	3
2.	б. размера	2
3.	а. размера за смањење	3
4.	в. 210 X 297 мм	2
5.	алфа - нумерички нумерички функцијски помоћни- функцијски курсорски	5
6.	матрични штампачи са мастилом (ink jet) ласерски	3
7.	исеци копирај залепи	3
8.	а. шперплоче и панел-плоче	2
9.	1. шперплоча 2.панел – плоча 3.иверица 4. лесонит- плоча	4
10.	б.пластичне масе	1
11.	Мобијусова петља <div style="text-align: center;">Цртеж </div>	2
12.	а. угаљ, нафта, плин	2
13.	1. знакови опасности 2. знакови изричитих наредби и обавезе 3. знакови обавештења	3
14.	Опасност пешаци на путу	1
15.	Опасност радови на путу	1
16.	СТОП обавезно заустављање	1
17.	Забрана саобраћаја за бициклисте	1
18.	Забрана саобраћаја за пешаке	1