

Република Србија
Министарство просвете
Друштво педагога техничке културе Србије

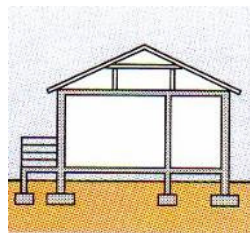
ОКРУЖНО И ГРАДСКО ТАКМИЧЕЊЕ УЧЕНИКА ОСНОВНИХ ШКОЛА
У ТЕХНИЧКОМ И ИНФОРМАТИЧКОМ ОБРАЗОВАЊУ
9. МАЈ 2009.




Округ _____ Име и презиме ученика _____

Општина _____ Име и презиме наставника _____

Школа _____ Освојено бодова на тесту _____

рбр	Питање	Бр. бодова
1.	Грађевинарство се, због своје обимности и разноврсности, дели на: 1. _____ 2. _____ 3. _____ На линије упиши одговоре	3
2.	Мере у грађевинарству се увек изражавају у _____ На линију упиши одговор	2
3.	У грађевинарству се најчешће користе два типа пресека и то: 1. _____ пресек 2. _____ пресек На линије упиши одговоре	2
4.	Део зграде (грађевинског објекта) улопан у земљу назива се: _____ На линију упиши одговор	1
5.	Технички цртежи (пројекти) у архитектури и грађевинарству цртају се у размери која је: а. Умањена б. Увећана Заокружи слово испред тачног одговора	2
6.	На цртежу је приказан објект у а) перспективи б) хоризонталном пресеку в) вертикалном пресеку г) бочном изгледу Заокружи слово испред тачног одговора	2
7.	Природни грађевински материјали су: а. дрво, камен, песак, шљунак,... б. бетон, стакло, гипс, малтер,... Заокружи слово испред тачног одговора	2



8.	<p>Бетон је сложен грађевински материјал пошто се добија мешањем</p> <p>а. _____</p> <p>б. _____</p> <p>в. _____</p> <p>На линије упиши одговоре</p>	3
9.	<p>Који грађевински материјал се добија мешањем креча, песка и воде?</p> <p>_____</p> <p>На линију упиши одговор</p>	2
10.	<p>Ако се пре изливања бетона у оплате уграде челичне шипке, добија се</p> <p>_____</p> <p>На линију упиши одговор</p>	2
11.	<p>Слика приказује симбол:</p> <p> _____</p> <p>На линију упиши одговор</p>	2
12.	<p>Слика приказује симбол:</p> <p> _____</p> <p>На линију упиши одговор</p>	2
13.	<p>Слика приказује симбол:</p> <p> _____</p> <p>На линију упиши одговор</p>	2
14.	<p>Грађевинске машине за земљане радове су:</p> <p>а. багери, булдожери, ваљци,...</p> <p>б. дизалице, камиони – кипери,...</p> <p>Заокружи слово испред тачног одговора</p>	2
15.	<p>Димензије пуне опеке су:</p> <p>а. 65 x 120 x 250 милиметара</p> <p>б. 65 x 120 x 200 милиметара</p> <p>в. 60 x 125 x 220</p> <p>Заокружи слово испред тачног одговора</p>	2
16.	<p>Јавни путеви се деле на:</p> <p>1. _____</p> <p>2. _____</p> <p>3. _____</p> <p>На линије упиши одговоре</p>	3
17.	<p>Која је основна подела пољопривредних машина?</p> <p>1. _____</p> <p>2. _____</p> <p>3. _____</p> <p>4. _____</p> <p>На линије упиши одговоре</p>	4
18.	<p>Најважнија погонска машина у пољопривредној производњи је</p> <p>_____</p> <p>На линију упиши одговор</p>	2

Потпис чланова комисије:

Укупан број остварених бодова: _____

Кључ за тест ШЕСТОГ РАЗРЕДА

1.	1. високоградњу, 2. нискоградњу, 3. хидроградњу	3
2.	центиметрима	2
3.	1. хоризонтални 2. вертикални	2
4.	темељ	1
5.	а. умањена	2
6.	в. вертикалном пресеку	2
7.	а. дрво, камен, песак, шљунак,...	2
8.	а. Везивно средство б. Агрегат в. Вода	3
9.	Малтер	2
10.	армирани бетон	2
11.	Врата	2
12.	Прозор	2
13.	Димњак (оџак)	2
14.	а. багери, булдожери, ваљци	2
15.	а. 65 x 120 x 250 милиметара	2
16.	1.магистралне 2.регионалне 3.локалне	3
17.	1.погонске 2.прокључне 3.комбиноване 4.специјалне	4
18.	Трактор	2